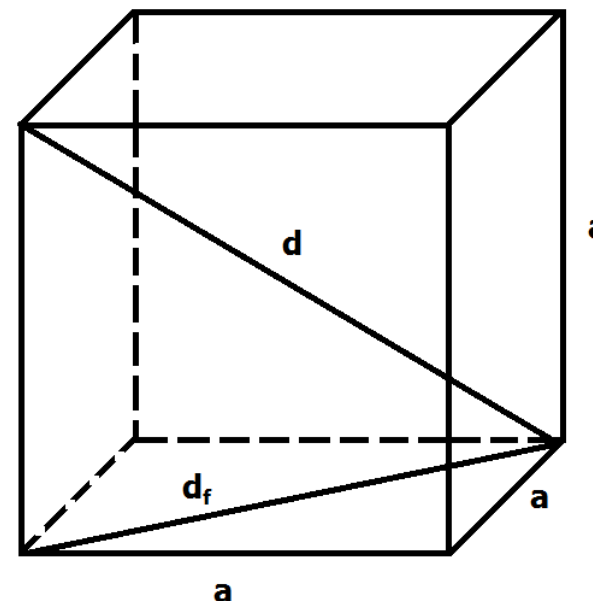


Fișă 28

Inserarea și formatarea textului

To do 1

- Realizează desenul alăturat:




Aria unei fețe = a^2
Aria totală = $6a^2$
Aria laterală = $4a^2$
Volumul = a^3

To do 2

- Caută pe internet imagini cu flori, află denumirea lor și realizează un colaj



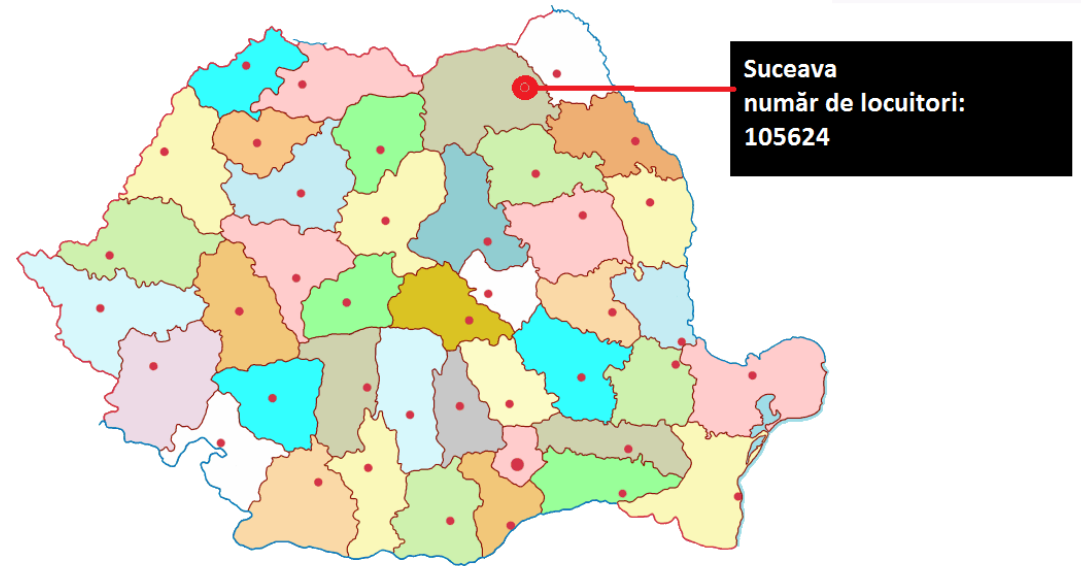
Crizantema



Trandafir

lalea

- Descarcă harta României și deschide-o în Paint
- Desenează un cerc în jurul localității Suceava
- Scrie pe un dreptunghi numele orașului și numărul de locuitori
- Desenează o săgeată de la dreptunghi la localitatea ta



To do:

- Creează o fișă cu figurile geometrice învățate la matematică lângă care scrie denumirea și formulele de calcul a ariei și a perimetrului.
- Creează o diplomă pentru un coleg
- Creează un colaj cu personaje preferate din jocuri sau desene animate